

제 4 교시

사 회

수험번호 ()

성 명 ()

※ 다음 물음에 대한 가장 옳은 답을 하나만 골라, OMR 답안지에 정확히 표기하시오.

1. 다음과 같은 생활 모습을 볼 수 있는 대표적인 기후 지역은?

- 오아시스 농업과 유목이 발달함.
- 낙타를 이용하여 사막을 이동하며 상업 활동을 함.

① 건조 기후 ② 온대 기후 ③ 냉대 기후 ④ 한대 기후

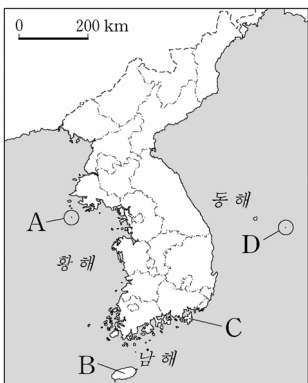
2. 다음 설명에 해당하는 자원은?

- 화학 공업의 원료로 이용됨.
- 자동차와 비행기 등의 연료로 이용됨.
- 주요 생산지와 소비지가 달라서 국제적 이동량이 많음.

① 구리 ② 석유 ③ 주석 ④ 철광석

3. 다음에서 설명하는 섬은?

- 천연기념물 336호로 지정된 곳
- 우리나라에서 해가 가장 먼저 뜨는 지역
- 동도·서도 두 개의 큰 섬과 여러 개의 작은 섬들로 구성



- ① A
② B
③ C
④ D

4. 다음 내용과 관련되는 자연재해는?

<학교에서의 ○○ 대피 행동 요령>

- 책상 밑에 들어가 몸을 웅크린다.
- 넘어지는 선반이나 책상으로부터 멀리 피하여 몸을 보호한다.
- 선생님의 지시에 따라 행동하고, 침착하게 운동장으로 대피한다.

① 가뭄 ② 폭염 ③ 지진 ④ 황사

5. 다음 내용과 가장 관련 있는 사회 문제는?

- 노령 연금 지급
- 실버타운 건설
- 노인 여가 활동 지원
- 노년층 재취업 훈련

① 고령화 ② 남녀 차별
③ 성비 불균형 ④ 도시 인구 집중

6. 다음 설명에 해당하는 지역은?

도시의 무질서한 팽창을 막고, 녹지 공간을 확보하기 위하여 설정한 지역으로 그린벨트(green belt)라고도 함.

- ① 도심 ② 부도심
③ 위성 도시 ④ 개발 제한 구역

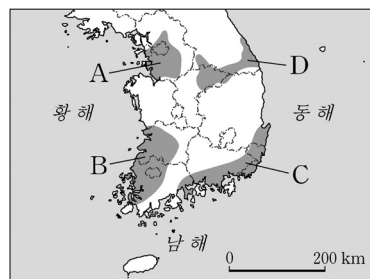
7. 다음에서 설명하는 지형은?

- 조류에 의해 운반된 모래나 점토가 쌓여 생긴 곳
- 바다 오염을 막아 주는 정화 기능을 하며, 각종 어패류 채취나 염전으로 이용

① 분지 ② 갯벌 ③ 선상지 ④ 범람원

8. 다음 내용에 해당되는 지역은?

- 우리나라 최대의 중화학 공업 지역
- 제철(포항·광양), 자동차(울산), 석유화학(울산·여수), 조선(울산·거제) 공업 등 발달



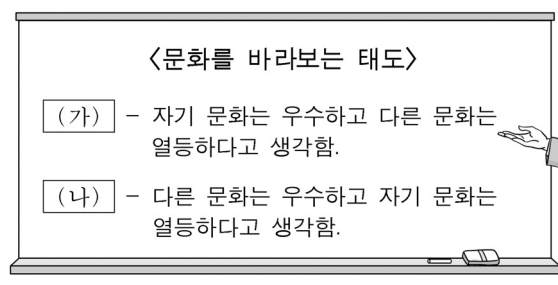
- ① A
② B
③ C
④ D

9. 다음 내용에 해당하는 것은?

- 가장 기초적인 사회화 기관
- 태어나서 처음으로 사회화가 이루어지는 곳
- 언어, 예절 등 기본적인 사회적 행동을 배우는 곳

① 가정 ② 직장 ③ 학교 ④ 대중 매체

10. (가)와 (나)에 들어갈 용어를 알맞게 짝 지은 것은?



- | (가) | (나) |
|------------|----------|
| ① 자문화 중심주의 | 문화 상대주의 |
| ② 자문화 중심주의 | 문화 상대주의 |
| ③ 문화 상대주의 | 자문화 중심주의 |
| ④ 문화 상대주의 | 문화 상대주의 |

11. 다음에서 설명하고 있는 법은?

- 모든 법률의 토대가 되는 최상위의 법
- 국민의 권리와 의무 및 국가의 통치 조직과 운영 원리 등을 규정한 법

- ① 헌법 ② 상법 ③ 형법 ④ 민법

12. 다음 내용에 해당하는 것은?

- 민주주의 선거 4대 원칙 중 하나임.
- 한 사람이 한 표씩을 행사할 수 있으며, 그 표의 가치는 같음.

- ① 제한 선거 ② 평등 선거 ③ 직접 선거 ④ 비밀 선거

13. 민주 정치의 기본 원리로 적절하지 않은 것은?

- ① 국민 주권의 원리 ② 국민 자치의 원리
③ 전제 정치의 원리 ④ 권력 분립의 원리

14. 다음 내용과 관계 깊은 기본권은?

- 국민의 다른 기본권을 보장하기 위한 기본권
- 국가에 일정한 행위를 요구할 수 있는 권리

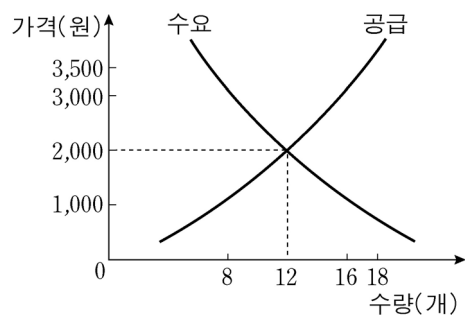
- ① 자유권 ② 참정권 ③ 청구권 ④ 평등권

15. 다음 내용에 해당하는 것은?

재화란 인간의 필요와 욕구를 충족시켜 주는 것 중에서 구체적인 형태가 있는 물건을 의미한다.

- ① 교사의 수업 ② 의사의 진료
③ 가수의 공연 ④ 학생의 교복

16. 시장에서의 균형 가격은 수요량과 공급량이 일치하는 지점에서 결정된다. 다음 그래프에서 균형 가격은? (단, 다른 조건은 일정함.)



- ① 1,000 원
② 2,000 원
③ 3,000 원
④ 3,500 원

17. (가)에 해당하는 나라는?

(가)에서는 백성들에게 금하는 법 8조가 있었다. 사람을 죽인 자는 즉시 죽이고, 남에게 상처를 입힌 자는 곡식으로 갚는다. 도둑질한 자는 그 집의 노비로 삼는다.

- ① 가야 ② 동예 ③ 옥저 ④ 고조선

18. 다음 내용에 해당하는 왕은?

- 〈4세기 백제의 발전〉
- 마한 전 지역을 정복함.
 - 고구려를 공격하여 황해도 지역 일부를 차지함.
 - 중국의 요서 지방과 일본의 규슈 지방에 진출함.

- ① 내물왕 ② 법흥왕 ③ 근초고왕 ④ 소수림왕

19. 고려 공민왕이 실시한 정책을 <보기>에서 고른 것은?

- 〈보기〉
- ㄱ. 경복궁 중건 ㄴ. 훈민정음 창제
ㄷ. 친원 세력 숙청 ㄹ. 몽골 풍속 금지

- ① ㄱ, ㄴ ② ㄱ, ㄹ ③ ㄴ, ㄷ ④ ㄷ, ㄹ

20. 다음 유물들이 만들어진 나라는?



〈불국사 다보탑〉 〈석굴암 본존 불상〉 〈성덕 대왕 신종〉

- ① 발해 ② 백제 ③ 고구려 ④ 통일 신라

21. 다음과 같은 정책들을 실시한 조선의 왕은?

- 탕평책 실시 ○ 규장각 설치
- 장용영 설치 ○ 수원 화성 건설

- ① 광종 ② 정조 ③ 장수왕 ④ 진흥왕

22. 조선 시대의 최고 교육 기관은?

- ① 경당 ② 태학 ③ 성균관 ④ 주자감

23. 다음 내용에 해당하는 사건은?

- 신식 군대인 별기군과의 차별에 구식 군인들이 불만을 가짐.
- 구식 군인들이 일본 공사관을 습격함.
- 조선과 일본이 제물포 조약을 체결함.

- ① 갑신정변 ② 을미사변 ③ 병인양요 ④ 임오군란

24. 다음 내용에 해당하는 인물은?

- 김구가 조직한 한인 애국단 소속
- 상하이 홍커우 공원에서 일본군에 폭탄 투척

- ① 김옥균 ② 서재필 ③ 윤봉길 ④ 전명운

25. 다음 내용에 해당하는 사건은?

1960년 이승만 정부가 3·15 부정 선거를 저지르자 학생과 시민들이 이에 저항하여 대규모 시위를 일으켰고, 그 결과 이승만 정부가 붕괴되었다.

- ① 4·19 혁명 ② 6·25 전쟁
③ 6월 민주 항쟁 ④ 5·18 민주화 운동

※ 확인 사항

답을 OMR 답안지의 해당란에 정확히 표기했는지 확인하시오.