

## 제 ⑥ 교시

## 한 국 사

수험번호 ( )

성 명 ( )

※ 다음 물음에 대한 가장 옳은 답을 하나만 골라, OMR 답안지에 정확히 표기하시오.

1. 청동기 시대의 대표적인 유물·유적을 <보기>에서 고른 것은?

<보기>

- ㉠. 고인돌                      ㉡. 비파형 동검  
㉢. 주먹도끼                  ㉣. 철제 농기구

- ① ㉠, ㉡      ② ㉠, ㉢      ③ ㉡, ㉣      ④ ㉢, ㉣

2. (가)에 들어갈 인물은?

삼국유사의 기록에 따르면, 환웅이 웅녀와 혼인하여 낳은 (가) 이/가 고조선을 세웠다. 고조선은 정치적 지배자가 제사장을 겸하는 사회였다.

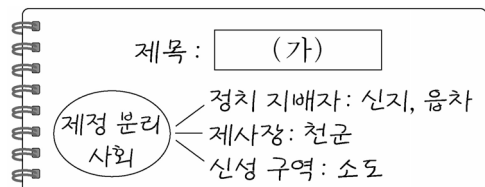
- ① 온조                      ② 주몽  
③ 단군왕검              ④ 박혁거세

3. 다음 설명에 해당하는 백제의 왕은?

- 지방의 22담로에 왕족을 파견함.  
○ 중국 남조와 교류하여 친선 관계를 유지함.  
○ 사후에 벽돌무덤 양식의 능에 안장됨.

- ① 고이왕      ② 무령왕      ③ 법흥왕      ④ 신문왕

4. (가)에 들어갈 제목으로 알맞은 것은?



- ① 동예의 정치  
② 부여의 발전  
③ 삼한의 특징  
④ 옥저의 성립

5. 다음 설명에 해당하는 나라는?

- 고구려 계승 의식을 표방함.  
○ '신라도'를 통해 신라와 교역함.  
○ 중국인들로부터 해동성국이라 불림.

- ① 가야      ② 고려      ③ 발해      ④ 백제

6. (가)에 들어갈 종교는?

삼국은 중앙 집권 국가로 성장하는 과정에서 전쟁으로 영토를 확장하는 한편, (가) 를 수용하여 사상을 통일하였고, 율령을 반포하여 통치 체제를 정비하였다.

- ① 도교      ② 불교      ③ 대종교      ④ 천도교

7. (가)에 들어갈 나라는?

(가) 은/는 진한의 소국인 사로국에서 출발하였다. 초기에는 박·석·김의 세 성씨가 번갈아 왕이 되어 국가를 운영하였으나, 왕권 강화와 더불어 김씨가 왕위를 독차지하게 되었다.

- ① 신라      ② 태봉      ③ 고구려      ④ 후백제

8. 통일 신라 말의 상황으로 옳지 않은 것은?

- ① 국호가 남부여로 바뀌었다.  
② 진골 귀족들 사이에 왕위 쟁탈전이 일어났다.  
③ 지방에서 성주, 장군을 칭하는 세력이 성장하였다.  
④ 6두품 세력들이 골품제의 모순을 비판하며 개혁을 주장하였다.

9. (가)에 들어갈 왕은?

(가) 은 만주 지역으로 영토를 확장하였고, 남으로는 백제를 압박하고 신라를 도와 왜구를 격퇴하였다. 아들인 장수왕은 지금의 지린 성 지안에 그를 기리는 비석을 세웠다.

- ① 태조왕                      ② 고국천왕  
③ 소수림왕                  ④ 광개토 대왕

10. 다음 활동을 펼친 인물은?

- 당나라에서 귀국한 뒤 완도에 청해진을 설치함.  
○ 신라·당·일본을 잇는 해상 무역을 주도함.

- ① 견훤                      ② 장보고  
③ 최승로                  ④ 연개소문

11. 다음에서 설명하고 있는 고려의 제도는?

- 광종 때 처음으로 시행함.  
○ 제술과와 명경과로 나누어 문과를 실시함.

- ① 골품 제도                  ② 과거 제도  
③ 음서 제도                  ④ 전시과 제도

12. 팔만대장경에 대한 설명으로 옳은 것은?

- ① 사람들의 문화적 취향이 반영되어 제작되었다.  
② 유교 보급을 위한 국가적 사업으로 간행되었다.  
③ 현재 전해지는 금속 활자본 중 가장 오래되었다.  
④ 몽골의 침입을 물리치려는 염원에서 만들어졌다.

13. 다음 설명에 해당하는 정치 세력은?

- 고려 말 권문세족의 횡포를 비판함.
- 지방 향리 출신으로 성리학을 수용함.
- 공민왕의 반원 자주 정책과 함께 성장함.

- ① 노론                      ② 호족  
③ 문벌 귀족              ④ 신진 사대부

14. 세종이 실시한 정책을 <보기>에서 고른 것은?

- <보기>—————  
ㄱ. 화성 건설                      ㄴ. 4군 6진 설치  
ㄷ. 훈민정음 반포                ㄹ. 대동여지도 제작

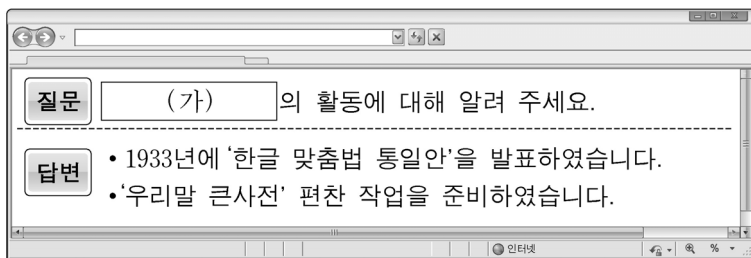
- ① ㄱ, ㄴ              ② ㄱ, ㄹ              ③ ㄴ, ㄷ              ④ ㄴ, ㄹ

15. 다음 설명에 해당하는 조선의 신분은?

역관, 의관 같은 기술관이나 중앙 관청의 서리, 지방의 향리 등이 포함된다. 주로 전문 기술이나 행정 실무를 담당하였다.

- ① 상민              ② 양반              ③ 중인              ④ 천민

16. (가)에 해당하는 단체는?



- ① 근우회                      ② 진단 학회  
③ 조선어 학회              ④ 조선사 편수회

17. (가)에 들어갈 인물은?

임진왜란 당시 (가)이 이끄는 조선 수군이 옥포, 한산도 등의 해전에서 승리를 거둬서 남해의 제해권을 장악하였다.

- ① 윤관              ② 최영              ③ 강감찬              ④ 이순신

18. 조선 후기 실학에 대한 설명으로 옳은 것을 <보기>에서 고른 것은?

- <보기>—————  
ㄱ. '인내천(人乃天)' 사상을 내세웠다.  
ㄴ. 대표적인 학자로 정약용, 박지원 등이 있다.  
ㄷ. 토지 제도 개혁, 상공업 발달 등을 주장하였다.  
ㄹ. 『삼강행실도』와 『국조오례의』가 대표적인 서적이다.

- ① ㄱ, ㄴ              ② ㄱ, ㄹ              ③ ㄴ, ㄷ              ④ ㄷ, ㄹ

19. 다음 설명에 해당하는 단체는?

- 안창호, 양기탁 등이 비밀리에 조직하였다.
- 대성 학교, 오산 학교를 설립하여 인재를 양성하였다.
- 공화정을 추구하고, 만주에 독립군 기지를 건설하였다.

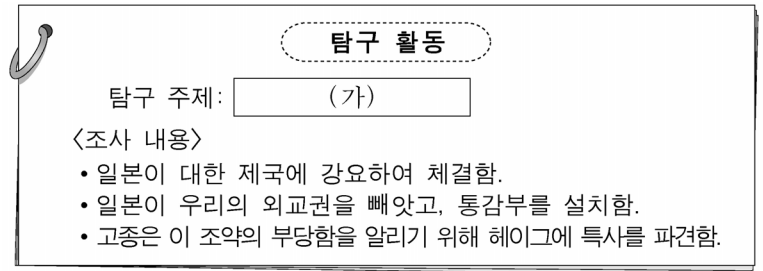
- ① 보안회              ②新民회              ③ 일진회              ④ 황국 협회

20. 다음에서 설명하고 있는 사건은?

홍선 대원군이 실권을 잡고 있을 당시 미국은 제너럴 셔먼호 사건을 구실로 강화도를 침략하였다. 그러나 미군은 조선 측의 강력한 저항에 부딪혀 퇴각하였다.

- ① 갑신정변              ② 신미양요              ③ 아관파천              ④ 임오군란

21. (가)에 해당하는 조약은?



- ① 을사 조약                      ② 한성 조약  
③ 강화도 조약                      ④ 제물포 조약

22. 다음에서 설명하는 사회 운동은?

갑오개혁으로 법적인 신분제는 없어졌지만, 사회적 차별은 여전히 남아 있었다. 이에 백정들이 1923년에 진주에서 단체를 조직하여 백정에 대한 차별 철폐 등을 주장하며 활동하였다.

- ① 형평 운동                      ② 브나로드 운동  
③ 국채 보상 운동              ④ 물산 장려 운동

23. 다음 내용에 해당하는 독립군 단체는?

- 대한민국 임시 정부가 충칭에서 창설하였다.
- 미국군과 연합하여 국내 진공 작전을 계획하였다.
- 인도·미얀마 전선에서 영국군과 공동 작전을 전개하였다.

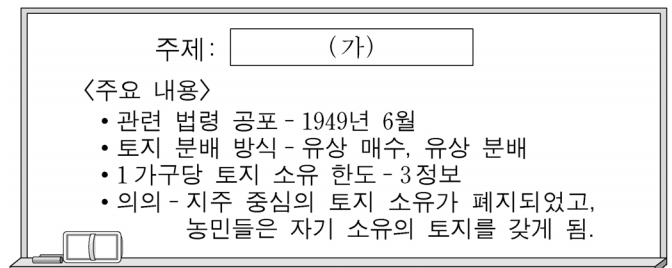
- ① 의열단                      ② 조선 혁명군  
③ 한국 광복군                      ④ 한인 애국단

24. <보기>의 내용을 시대 순으로 배열한 것은?

- <보기>—————  
ㄱ. 장면 내각              ㄴ. 박정희 정부              ㄷ. 이승만 정부

- ① ㄱ-ㄴ-ㄷ                      ② ㄱ-ㄷ-ㄴ  
③ ㄴ-ㄱ-ㄷ                      ④ ㄷ-ㄱ-ㄴ

25. (가)에 들어갈 주제는?



- ① 농지 개혁                      ② 금융 실명제  
③ 새마을 운동                      ④ 경제 개발 5개년 계획

※ 확인 사항  
답을 OMR 답안지의 해당란에 정확히 표기했는지 확인하십시오.